

# Altsteinzeit


600 000 – 10 000 v. Chr. (Eiszeitalter)

Die Menschen der Altsteinzeit lebten unter \_\_\_\_\_  
und in \_\_\_\_\_. (Bild)

Sie waren:

- Bauern     Fischer     Handwerker     Jäger     Sammler

Jagdtiere in der Altsteinzeit    Wie heißen sie?



Du findest diese Knochen und Zahnteile in der hintersten Vitrine:

\_\_\_\_\_, \_\_\_\_\_  
\_\_\_\_\_, \_\_\_\_\_

Die Menschen der Altsteinzeit benützten Werkzeuge und einfache Waffen aus Stein. Zeichne zwei Altsteinzeit-Werkzeuge und beschrifte sie.

--	--

Die Menschen in der Altsteinzeit stellten außer Waffen, Werkzeuge und Kleidung auch Musikinstrumente, Schmuck und Kunstgegenstände her. Zeichne ein aus Elfenbein geschnitztes Tier und schreibe den Namen dazu.



Löwenmensch

# Mittelsteinzeit

10 000 – 5 000 v. Chr.

Am Ende der Eiszeit erwärmte sich das Klima. Die Tier- und Pflanzenwelt veränderte sich. Wald breitete sich aus und es wuchsen diese Baumarten:

Die Menschen der Mittelsteinzeit waren

- Bauern     Fischer     Handwerker     Jäger     Sammler

In der Mittelsteinzeit fertigten die Menschen neue und feinere Geräte.

Zeichne diese auf

<p style="text-align: center;"><b>Harpune</b></p> <p>Die Harpune war nicht fest mit dem Schaft verbunden und löste sich nach dem Eindringen in den Fischkörper. Der Jäger befestigte vorher eine Schnur an der Harpune und konnte nun den Fisch aus dem Wasser ziehen.</p>	<p style="text-align: center;"><b>Querschneiderspitze, Trapez-Spitze</b></p> <p>beschädigte Gefieder und Vogelskelett und führte durch Schock zum sofortigen Tod. Bei großen Tieren kam es zu stark blutenden Wunden. So konnten ihre Spuren leicht verfolgt werden.</p>
--	--

Zeichne die Wohnung der Menschen in der Mittelsteinzeit

	Aus diesen Materialien bestand sie:
--	-------------------------------------

<p>Die Menschen der Mittelsteinzeit lebten in einem „Basislager“ (BL). Von dort aus zogen die Jäger und Sammler sternförmig aus zu den „Jagdlagern“ (JL). Nach erfolgreicher Jagd und dem Sammeln von Rohstoffen kehrten sie wieder zurück zum „Basislager“ und ihrer Sippe. Zeichne mit Pfeilen diese Vorgehensweise ein.</p>	<pre> graph TD     BL[BL] --&gt; JL1[JL]     BL --&gt; JL2[JL]     BL --&gt; JL3[JL]     BL --&gt; JL4[JL] </pre>
--	---


# Jungsteinzeit

5 000 – 2 000 v. Chr.

Die Menschen in der Jungsteinzeit sammelten nicht nur Früchte, sie säten und ernteten auch auf ihren Feldern.  
Getreidesorten, die angebaut wurden:

---


Die Jagd war nun nicht mehr so wichtig, denn sie hielten sich Haustiere.



Die Menschen der Jungsteinzeit waren

- Bauern     Fischer     Handwerker     Jäger     Sammler

In der Jungsteinzeit wurden bereits mechanische Geräte entwickelt.  
An der Wand findest du eine Bohrmaschine.  
Fertige davon eine Zeichnung an.




Da der wichtigste Teil einer Waffe oder eines Werkzeugs aus **Stein** gefertigt wurde, befinden wir uns immer noch in der **Steinzeit**.  
Diese Geräte hängen über dem Modell der Jungsteinzeitsiedlung.

---

---

Betrachte das Modell einer jungsteinzeitlichen Siedlung.  
Nenne 3 wesentliche Veränderungen im Vergleich zur Mittelsteinzeit.



---

---

---